

Liebe Schülerinnen und Schüler,

wenn ihr eine Rückmeldung zu den Aufgaben möchtet, schickt bitte eure Lösungen bis zum **05.06.2020** an den jeweiligen Fachlehrer!

Liebe Grüße und bis bald in der Schule

Nicole Krämer

## 1. Englisch

### Wochenplan 7b ab 18.05.2020

Hier nochmals meine Adresse: [poldi21@hotmail.de](mailto:poldi21@hotmail.de)

Wenn ihr Fragen habt, schickt mir einfach eine Mail! Ihr habt bis zum 5. Juni Zeit für die Aufgaben. In der Schule im Präsenzunterricht haben wir dann Zeit zur Besprechung.

Eure Frau Hüsch

- **Present Progressive with future meaning**
  - GF 7, p. 155: abschreiben und verstehen (es ist nur eine Wiederholung)
  - Workbook p. 51, nr.4 and 5
  
- **Reflexive pronouns**
  - GF 8, p. 155 abschreiben und verstehen
  - P. 79, nr. 8 and 9
  - Workbook p. 53, p. 54 nr. 11
  
- **Reflexive pronoun or each other?**
  - GF 9, p. 156 abschreiben und verstehen
  - P. 79, nr. 10
  - Workbook p.54 nr. 12, p. 55 nr. 13

## 2. Mathematik

Thema: Proportionale Zuordnungen (Buch, Seite 126)

### 1. Erarbeitung: Dreisatz

- Schau dir die Bemerkung (S. 126) und die Beispiele (S. 127) an.
- Übernimm das folgende Beispiel in dein Heft.

Mit dem **Dreisatz** lässt sich berechnen, wie viel man für 5 Hefte bezahlen muss, wenn 8 Hefte 4,80 € kosten.

Aufgabe: 8 Hefte kosten 4,80 €. Wie viel muss Tim für 5 Hefte bezahlen?

$$\begin{array}{rcl} 8 \text{ Hefte} & \rightarrow & 4,80 \text{ €} \\ : 8 \downarrow & & \downarrow : 8 \\ 1 \text{ Heft} & \rightarrow & 0,60 \text{ €} \\ \cdot 5 \downarrow & & \downarrow \cdot 5 \\ 5 \text{ Hefte} & \rightarrow & 3,00 \text{ €} \end{array}$$

Antwort: Tim muss für 5 Hefte 3,00 € bezahlen.

Alle Aufgaben mit proportionaler Zuordnung kann man in drei Schritten lösen!

### 2. Übung:

- Löse die folgenden Aufgaben mit dem Dreisatz!
  - Notiere deine Rechnung wie im Beispiel!
  - Denke auch an den Antwortsatz!
- 1) 5 m Stoff kosten 80 €. Wie viel kosten 3 m vom gleichen Stoff?
  - 2) Aus einem Wasserhahn strömen 8 Liter Wasser in 24 s. Wie lange dauert es, bis ein 15 Liter-Eimer gefüllt ist?
  - 3) 5 Knäuel Wolle kosten 20 €. Für einen Pullover werden 7 Knäuel verbraucht. Wie viel Euro kostet die Wolle für den Pullover?
  - 4) Für 12 m<sup>2</sup> Wandfläche werden 540 Fliesen gebraucht. Wie viele Fliesen werden für 5 m<sup>2</sup> benötigt?

## 3. Erarbeitung: Zeichnerische Darstellung

- Übertrage die folgende Anleitung zur zeichnerischen Darstellung in dein Heft.

Anzahl der Hefte	1	2	3	4	5
Preis in €	0,60	1,20	1,80	2,40	3,00

- Man legt für die Eingabegröße (Anzahl der Hefte) auf der x-Achse und für die Ausgabegröße (Preis in €) auf der y-Achse geeignete Maßstäbe fest.

Maßstab: x-Achse 1 Heft  $\rightarrow$  1 cm

y-Achse 0,60 €  $\rightarrow$  1 cm

- Man trägt die gegebenen Wertepaare ein, indem man die zugehörigen Punkte markiert.
- Man zeichnet eine Gerade vom Ursprung aus durch die markierten Punkte.

## 4. Übung:

- Stelle die Beispielaufgabe zeichnerisch in einem Koordinatensystem dar.
- Bearbeite im Buch S. 127; Nr. 5

E-Mail: [Nicole\\_Kraemer@t-online.de](mailto:Nicole_Kraemer@t-online.de)

## 3. Biologie

Thema: Atmung (Buch, S. 112)

- Lies dir die Seiten 112 und 113 gut durch
- Schau dir auch die Abbildungen genau an
- Schau dir das Video in folgendem Link an  
<https://www.youtube.com/watch?v=5fJG7gBAVek>
- Bearbeite Die Aufgaben 1, 2 und 4 schriftlich

E-Mail: [Nicole\\_Kraemer@t-online.de](mailto:Nicole_Kraemer@t-online.de)

#### 4. Physik

Thema: Licht fällt auf einen Hohlspiegel (Buch, S. 58/59)

- Übertrage den folgenden Text in dein Heft.

Licht fällt auf einen Hohlspiegel

Ein Teil einer verspiegelten Kugelfläche heißt **Hohlspiegel** oder auch **Konkavspiegel**. Die physikalischen Größen am Hohlspiegel werden wie folgt bezeichnet:

- Übertrage jetzt die Abbildung „Physikalische Größen am Hohlspiegel“ S. 59 oben in dein Heft.
- Schau dir das Video in folgendem Link an:  
<https://www.youtube.com/watch?v=JJPZ--gx1uc>
- Lies dir die Seite 58 im Buch gut durch.
- Übertrage die Abbildung 2 „Ausgezeichnete Strahlen am Hohlspiegel“ S. 58 Mitte in dein Heft.
- Übertrage den folgenden Text in dein Heft

Die drei ausgezeichneten Lichtstrahlen werden am Hohlspiegel wie folgt reflektiert:

achsenparalleler Strahl	→	Brennpunktstrahl
Brennpunktstrahl	→	achsenparallelen Strahl
Mittelpunktstrahl	→	Mittelpunktstrahl

E-Mail: [Nicole\\_Kraemer@t-online.de](mailto:Nicole_Kraemer@t-online.de)

## 5. KuT

Hallo ihr Lieben,

ich hoffe, es geht euch gut!?

Hier kommt der nächste Arbeitsauftrag, der **bis zum 29.05.2020** bearbeitet werden sollte:

Schau dir folgendes YouTube - Video an:

**So klinge ich wirklich - Sprechen wie die Profis /**

**Sprechen wie die Profis vom 13.09.2018**

Aufgaben:

- Erkläre die Indifferenzlage!

Hallo ihr Lieben,

hier kommt eine Zusatzaufgabe bis zum 05.06.2020:

Schau dir folgendes YouTube - Video an:

**Texte zum Leben erwecken - Sprechen wie die Profis /**

**Sprechen wie die Profis vom 14.09.2018**

Aufgabe:

Schreibe eine Checkliste, was du tun kannst, um deine Aussprache zu verbessern!

Wichtig: Sendet eure Arbeitsergebnisse nur an folgende E-Mail-Adresse:

[u.hildebrand1@t-online.de](mailto:u.hildebrand1@t-online.de)

[Alles Liebe und bleibt gesund!](#)

## 6. WPF - Sport

- Erkläre die sogenannte PECH-Regel.
- Wann und wo sollte die Regel angewendet werden!?
- Hast du schon einmal einen Erste-Hilfe-Kurs gemacht? Findest du so einen Kurs sinnvoll?
- Welche Menschen brauchen deiner Meinung nach so einen Kurs? Brauchst du diesen Kurs demnächst?

## 7. Französisch

- Quel cinéma: Lies den neuen Text um Malika, Julie und Maxime auf Seite 49 und 50 in deinem Buch aufmerksam durch. Höre dir den Text mit der Hör-CD in deinem Cahier d'activités mehrfach an. Und lese dann nochmal den Text. (Track 54 -57)
- Worum geht es in dem Text? Schreibe 3 Sätze auf Deutsch in dein Heft. Als Hilfe zum Verständnis kannst du dir auch die Bilder anschauen oder die Vokabeln ab Seite 164.
- Schreibe die Vokabeln zum Text in dein Vokabelheft ab. (S. 164 bis S.166 il dit)
- Vrai ou faux?

Lies den Text noch einmal und kreuze an, ob die Aussagen richtig (vrai) oder falsch (faux) sind.

- Malika et Alex ont fait du skate.
- Maxime a trouvé un portefeuille dans la cantine.
- Julie et Malika arrive au cinéma, mais Maxime n'est pas là.
- Madame Laval est la prof de Maxime.
- Maxime et Antoine ont fait un paquet-cadeau pour Madame Laval.
- Malika, Julie et Maxime mangent des crêpes.
- Cahier, Seite 41 Nr. 3a und b

Hier musst du alle Dinge, die zum Thema „cinéma“ passen, eintragen. Bei Aufgabe b fehlen ein paar Vokabeln. Diese Wörter findest du alle im Text „Quel cinéma“.

Wer eine Rückmeldung für seine Aufträge haben möchte oder eine Frage hat, kann mir gerne eine E-Mail schreiben.

[CM1204@web.de](mailto:CM1204@web.de)

## 8. Musik

Liebe „Musiker“ der Klassen 7,  
weiter geht es mit einem Supererfolg und „Ohrwurm“ von J.B.Jovi, der immer noch  
aktuell

ist und für Stimmung sorgt: „It`s my Life“

Dazu gibt es folgenden Auftrag:

- Definiert die Begriffe „Leadsheet“ und „Remix“ (S. 27, Zuf. der blauen Merkkästchen)
- „It's my Life“: - Noten und Text S. 76 durcharbeiten, dann unbedingt „hören“ und  
„selbst singen“ (s. Aufg., S. 77, Nr. 1)
- Coverversionen dazu anhören (S. 77, Nr.2, Tabelle anfertigen), Wissensbox auf S. 77 ins Heft übertragen

### 4. Persönliche Stellungnahme (Hefteintrag):

Was hältst Du persönlich von „Coverversionen?“ - Sollte ein Interpret/ eine  
Band

ein bekanntes Stück „covern“ oder zeigt dies nur, dass man selbst keine  
Ideen

für Neues besitzt und lediglich anderes „stiehlt?“

(Wer Lust hat, sendet mir seine Meinung/Nr.4 an [elfi17froehling@alice.de](mailto:elfi17froehling@alice.de) !)

Viel Spaß! (besonders beim HÖREN und SINGEN, nur dann wird es „MUSIK!“ LG:)

## 9. ev. Religion

Liebe Schülerinnen und Schüler,

Falls ihr Fragen zu den Arbeitsaufträgen habt oder mir eure Lösungen schicken  
möchtet, dann schreibt eine Mail an: [kamue92@web.de](mailto:kamue92@web.de)

Liebe Grüße Frau Müller

**Aufgabe 1:** Lies den Text auf S.90 im Buch.

**Aufgabe 2:** Bearbeite die Aufgabe 1-3 in deinem Heft.

**Aufgabe 3:** Bearbeite die obere Aufgabe 1 auf Seite 91.

**Aufgabe 4:** Informiere dich in Internet über die Diakonie und die Caritas.

Was unterscheidet diese beiden Verbände?

Wie viele Mitglieder haben sie jeweils?

## 10. HuS

Mail an: [s.gazozcu@gmail.com](mailto:s.gazozcu@gmail.com)

Mail an: [kamue92@web.de](mailto:kamue92@web.de) (Gruppe Fr. Keßler)

### Thema: Tischsitten und Tischdecken

- Buch, Seite 24 und 25 lesen
- Aufgaben 1 bis 6

zu Aufgabe 3: Es reicht, wenn du zwei Tischsitten aus anderen Kulturen aufschreibst.

- Buch, Seite 26 lesen
- Schau dir das Bild „Hier ist die Unterhaltung nicht ganz einfach“ an und beschreibe, welche Regeln hier nicht beachtet wurden und wieso die Unterhaltung zwischen den Menschen so schwer ist.
- Deine zwei besten Freunde kommen heute zum Essen und es gibt was zum Feiern. Decke mithilfe der Regeln auf Seite 26 den Tisch für die Hauptmahlzeit, die du dir wünschst.

Mache ein Foto davon.

- Decke für deine Oma und zwei Freunde einen Kaffeetisch.

Mache ein Foto davon.

Gib dir etwas mehr Mühe als im Alltag.

Schicke mir deine Fotos von den gedeckten Tischen.

## 11. Informatik

Wir arbeiten weiter mit GIMP

Einen coolen Nebel-effekt kannst du mit Tricks erzeugen:

<https://www.gimpusers.de/tutorials/authentischer-nebel-mit-gimp>

Stelle einen Text mit Strahlen her:

<https://www.gimpusers.de/tutorials/lightrays>

Fertige Bilder schickst du wieder an [schauferberger@mdrsp.de](mailto:schauferberger@mdrsp.de)



## 12. Deutsch

### Lektürearbeit

- Lies weiterhin die Lektüre, falls du noch nicht fertig bist. Führe dabei die lesebegleitenden Aufgaben aus den letzten Wochenplänen weiter.
- Bereits im ersten Kapitel erfährst du eine Menge über Alex, Micheal und Lauren und lernst auch schon viele andere Personen der Geschichte kennen. Erstelle ein Schaubild, indem du die Personenkonstellation der Figuren darstellst. (Auch dies ist eine Aufgabe, die du während des Lesens immer wieder ergänzen kannst.)
- Bereits in Kapitel 2 finden Machtkämpfe statt. Greg scheint Andrea genaue Anweisungen gegeben zu haben, was sie tun soll. Was war wohl Sandis, Andreas und Gregs Plan? Schreibe ihn auf.
- In Kapitel 3 wird in Zusammenhang mit den Geschehnissen um Micheal Bailey von einem „Dummejungenstreich“ geredet. Erkläre ausführlich den Unterschied zwischen einem „Dummejungenstreich“ und Mobbing.

### **Zusatz bis 05.06.20:**

1. Ergänze dein Schaubild der Personenkonstellation, indem du neue Erkenntnisse aus der Lektüre einarbeitest.
2. In Kapitel 4 erfahren wir, dass sich Lauren sich aufgrund der Mobbing-Attacken verändert. Mobbing löst bei den Betroffenen oft psychosomatische Beschwerden auf. Recherchiere den Begriff im Internet und schreibe eine Definition dazu in eigenen Worten auf. Wie kann man diese Definition auf Micheal und Lauren beziehen?

Wenn du eine Rückmeldung zu deinen Aufgaben haben möchtest schicke sie bis zum 05.06.20 an [steffi.stumpf@googlemail.com](mailto:steffi.stumpf@googlemail.com)

**In der Woche ab dem 08.06.20 werden die Aufgaben dann in der Schule besprochen!**

### 13. Geschichte

Diese Woche beschäftigt ihr euch mit der Götterwelt der Römer.

Schau dir zuerst den kurzen Film an: „Welche Götter verehrten die Römer?“

<https://youtu.be/btIFibX-EMw>

S.114 lesen  
S. 114 Nr. 1,2,3

Suche dir 3 römische Götter aus und fertige eine Zeichnung von ihnen an. Schreibe daneben, welche Aufgaben diese Götter hatten. Ideen findest du sicher im Internet!

#### **Zusatz bis 05.06.20:**

S.114/115 lesen  
S.115 Nr. 5 a+b

Wenn du eine Rückmeldung zu deinen Aufgaben haben möchtest schicke sie bis zum 05.06.20 an [steffi.stumpf@googlemail.com](mailto:steffi.stumpf@googlemail.com)

**In der Woche ab dem 08.06.20 werden die Aufgaben dann in der Schule besprochen!**

### 14. MuK

Sende mir bitte eine E-Mail an die folgende E-Mail-Adresse-Mail, dann schicke ich dir das benötigte Material für diese Woche zu.

Verwende den folgenden Betreff: **Vorname Nachname, Klasse, MuK, KW21/22/23**

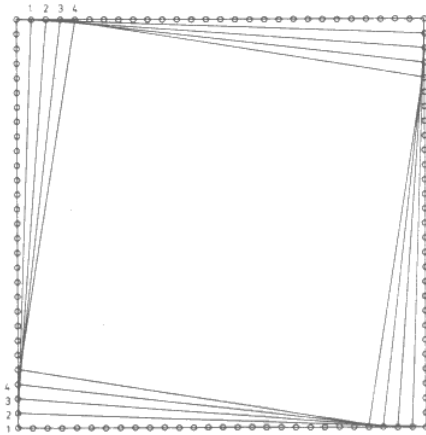
E-Mail-Adresse: [aufgaben.kotteM@web.de](mailto:aufgaben.kotteM@web.de)

Da die KW21 einen Feiertag beinhaltet, ist dieser Arbeitsauftrag für 3 Wochen angesetzt.

Eure Ergebnisse sendet ihr bis zum **05.06.2020** an die selbe E-Mail-Adresse.

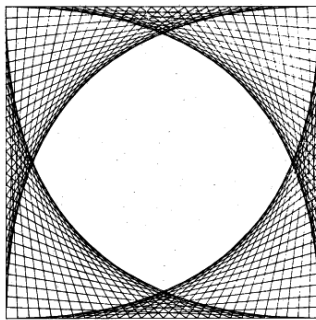
15. TuN

Aufgabe 1



Abstand der Markierungen = 5mm  
Zeichne das Schema ab und vervollständige!

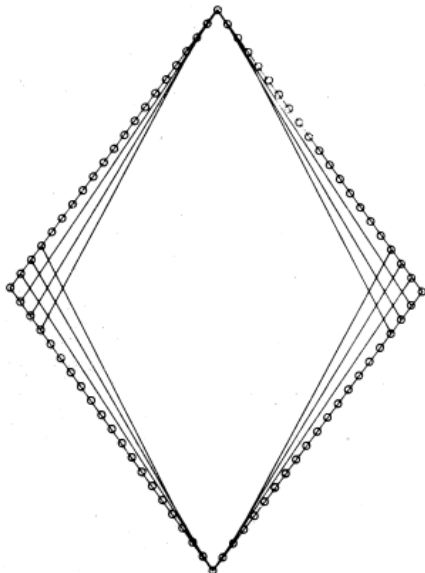
Das Ergebnis sollte so aussehen.



Aufgabe 2

Zeichne nach dem gleichen Schema und vervollständige auch hier.

Die Raute ist 16cm hoch und 12cm breit.



## 16. ITG

Auf folgenden Internetseiten findest Du Informationen zur Nutzung des Internets.

Besuche die Seiten im Internet, nutze die dort angegebenen Informationen und prüfe Deine Fähigkeiten mit dem jeweiligen „Surfschein“.

<https://www.polizei-dein-partner.de/service/internet-fuehrerschein.html>

<https://www.internet-abc.de/kinder/lernen-schule/surfschein/>

## 17. kath. Religion

Lies Lukas, Kapitel 10,25-37 „Das Beispiel vom barmherzigen Samariter“

Wem soll ich helfen. Jesus gibt darauf eine eindeutige Antwort. Erläutere!

In einer modernen Bibelübersetzung steht für das Wort „Nächster“ das Wort Mitmensch. Beschreibe, welche Folgen dies für dein Handeln hat!

## 18. Sport Mädchen

Auch diese Woche:

Versuche dich jeden Tag mindestens eine halbe Stunden draußen zu bewegen. Egal, ob mit dem Rad, spazierend oder joggend. Dokumentiere deine Bewegungszeit der ganzen Woche und sende sie mir unter [eva.delzeit-schule@gmx.de](mailto:eva.delzeit-schule@gmx.de) zu!

## 19. Ethik

**Mail an:** [s.gazozcu@gmail.com](mailto:s.gazozcu@gmail.com)

- Thema: „Konsum - Gegen den Strom“ Buch, S. 157 lesen
- Aufgabe 7 bearbeiten: Schreibe MINDESTENS eine Seite
- Aufgabe 9: Schreibe MINDESTENS eine Seite